


1. Les heures (suite)

— Observez

Quelle heure est-il ?

Vous avez l'heure ?



9 heures du matin
(neuf)



2 heures de
l'après-midi



9 heures du soir
(neuf)



9 heures et (1/4)
(neuf) quart



9 heures et (1/2)
(neuf) demie



10 heures
moins le 1/4
(dix)



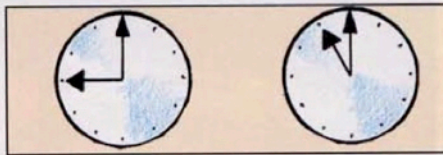
9 heures 5
(neuf) (cinq)



9 heures moins 5
(neuf) — (cinq)

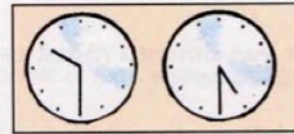
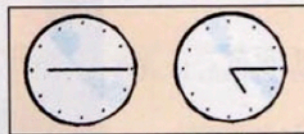
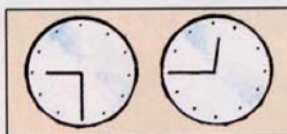
Heures d'ouverture

— Observez




Le magasin ouvre à 9 heures du matin.
Le magasin ferme à 11 heures du matin.
Le magasin est ouvert de 9 heures
à 11 heures du matin.

— Donnez les horaires des magasins suivants



2. Rendez-vous

— Observez



- Tu es libre mardi ?
- Oui, à quelle heure ?
- A 11 h et demie, ça va ?
- Ça va.
- Alors rendez-vous à mardi à 11 heures et demie.